

ドラえもんクイズ (中・上級)

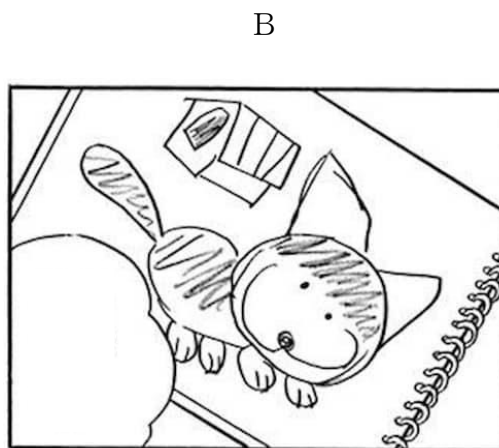
出典はてんコミ 1～45巻、大長編です。

以下の問題の答を解答欄に記入、または記号を○で囲んでください。

解答が終わりましたら、採点コーナーへお持ちください。



- ① 図Aの怪獣の正体は誰か。解答欄に記入しなさい。また図Bはのび太が描いた絵であるが、何という動物を写生したものか答えなさい。(各5点)



答. A :

B :

- ② ドラえもんはのび太が見つけたエリマキガエルを繰り返し間違った名で呼んだが、その呼び名とは何か。(10点)

答.

- ③ ジャイアンが「おそだアメ」を大量に飲んでから臨んだりサイタルのタイトルとして正しいものを、選択肢ア～エから選びなさい。(10点)

ア. ジャイアン心の歌

イ. ジャイアン大いに歌う

ウ. ジャイアン激唱


エ. 歌えジャイアン

- ④ ドラえもんがメスネコのために用意したプレゼントとして作中で描かれたものをすべて選びなさい。(完答10点)

- ア. かつおぶし イ. マタタビキャンディ
ウ. 未来のネコ用品 エ. 魚のさしみ

- ⑤ 以下の計算問題1～4を解きなさい。2～4は電卓を用いても良い。

1. では、さいしょの問題……。 (10点)



答. _____

2. 「フェール銀行」に10円を預けたとする(定期預金ではない)。利子によって増えた10日後の残高に、もっとも近い金額を選択肢から選びなさい。
なお、 $1.1^{60} \approx 300$ である。(10点)

- ア. 10万円 イ. 1000万円 ウ. 10億円 エ. 1000億円

3. A君は75000円をアルバイトの給料として受け取った。しかし税金鳥が飛んできて、その給料についての税金を徴収していった。A君の手元には給料はいくら残ったか。(15点)

答. _____ 円

4. (a)「ジャイアンの誕生日からのび太の誕生日までの日数」と、(b)「のび太の誕生日からドラえもんの誕生日までの日数」はどちらが長いか。(a)または(b)で答えなさい。なお、誕生年は考えずに月日だけの関係について計算しなさい。(15点)

答. _____

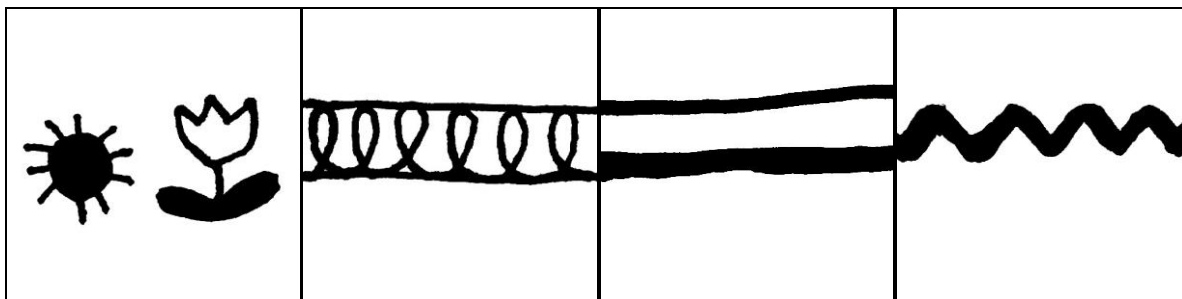
⑥ 作中でジャイアンが着用したことがある服の柄として明らかに当てはまらないものを、下の選択肢からひとつ選びなさい。(10点)

あ

い

う

え




お

か

き

く

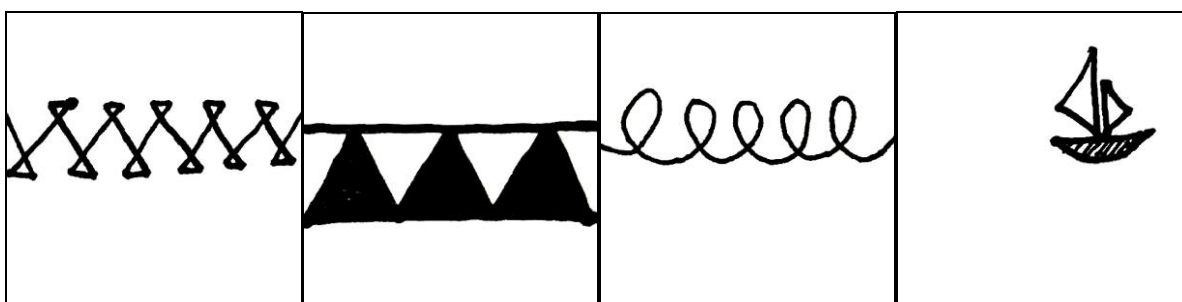


け

こ

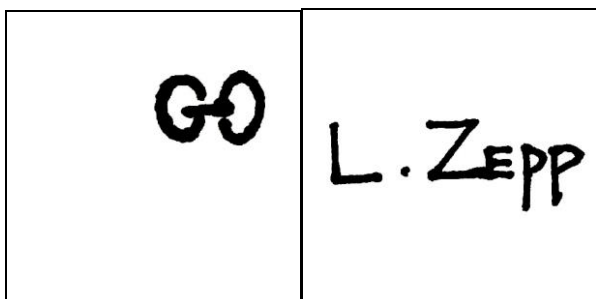
さ

し



す

せ



答.
